
தமிழர் கல்வி மேம்பாட்டுப் பேரவை TAMIL EDUCATION DEVELOPMENT COUNCIL



அரையாண்டுத் தேர்வு

2017 –2018

தமிழ்மொழி

வளர் தமிழ் 1

சுட்டெண்:.....

நேரம்: 90 மணித்துளிகள்

2) பார்த்து உறுப்பமைய எழுதுக.

ஆடிப்பிறப்பு தமிழர் திருநாள் .

புள்ளிகள் 03

3) சொற்களைப் பொருத்தமாக இணைக்குக.

எ - கா

குறள்

• உண்.

• இளநீர்

• எழும்பு.

• படம்

• துலக்கு.

• உணவு

• படி.

• காலையில்

• பார்.

• பல்

• குடி.

புள்ளிகள் 10

4) கீழே தரப்பட்டுள்ள சொற்களிலிருந்து படங்களுக்குப் பொருத்தமான சொல்லைக் கீறிட்ட இடங்களில் எழுதுக.

பலாப்பழம்	காகம்	சிப்பி	யாழ்	பல்லி	காளான்
-----------	-------	--------	------	-------	--------

எ - கா



யாழ்



புள்ளிகள் 05

5) படத்தைப் பார்த்து, கீறிட்ட இடங்களில் சரியான எழுத்தை எழுதிச் சொல்லாக்குக.

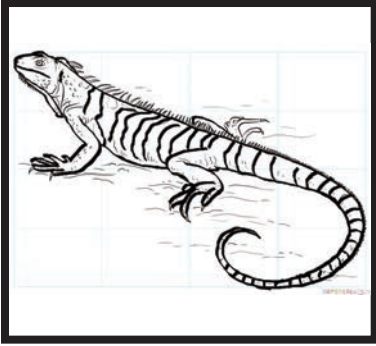
எ - கா



ச ங் கு



மூங்கி _____



ஓணா _____



மெ _____ டி



இல் _____ ம்



ஊ _____ சல்




புள்ளிகள் 10

6) படத்தைப் பார்த்து, அதன் பெயரைக் கட்டத்திற்குள் எழுதுக.

எ - கா



ம ணி க் கூ டு



புள்ளிகள் 10

7) கட்டத்தில் உள்ள சொற்களைக் கண்டறிந்து எழுதுக.

செ	ம்	பு	கு	ரு	வி
வ	ள்	ள	ம்	மீ	ன்
து	ம்	பி	பா	ம்	பு
நு	ள	ம்	பு	சு	றா
த	மி	ழீ	ழ	ம்	பூ
க	ழு	கு	பெ	ட்	டி

எ - கா

செம்பு


புள்ளிகள் 10

8) படத்திற்குரிய சொல்லுக்கு வட்டமிடுக.

எ - கா



- 1) சட்டகம் 2) சாளரம் 3) கதவு




- 1) முயல் 2) கரடி 3) கீரி



- 1) வல்லூறு 2) மயில் 3) புறா



- 1) வாளி 2) சட்டி 3) மணி



- 1) வட்டம் 2) சதுரம் 3) செவ்வகம்



- 1) பந்து 2) பட்டம் 3) பம்பரம்

புள்ளிகள் 10

9) கட்டங்களில் பொருத்தமான எழுத்தை எழுதுக.

எ - கா

க் + ஆ = கா

1. + ஊ = றூ

2. ச் + = சீ

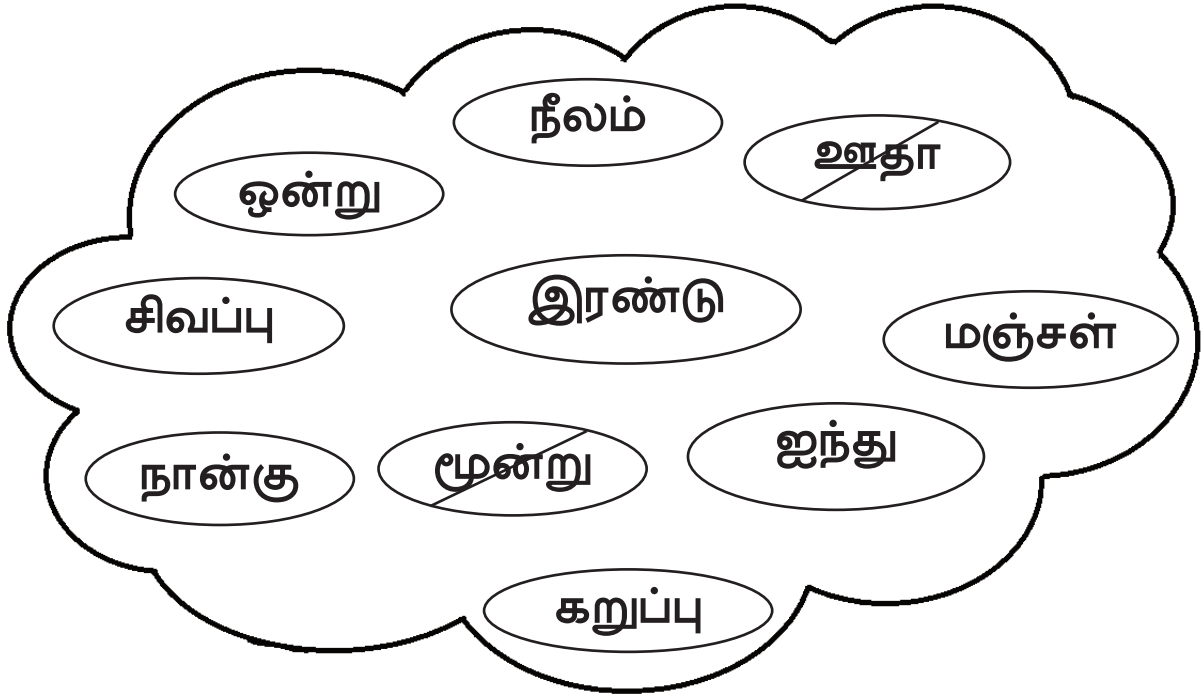
3. ட் + எ =

4. + இ = லி

5. ப் + அ =

புள்ளிகள் 10

10) எண்களையும் நிறங்களையும் கண்டறிந்து பொருத்தமான தலைப்பின் கீழ் எழுதுக.



எண்கள்

நிறங்கள்

எ - கா

மூன்று

ஊதா

புள்ளிகள் 08

11) தொடரும் எழுத்துகளை எழுதுக.

எ - கா

ம மா மி ம்

1. கா கி _____ _____

2. ற் ற _____ _____


3. தா தி _____ _____

4. நி நீ _____ _____

5. ச சா _____ _____

புள்ளிகள் 10

12) படத்தைப் பார்த்து ஐந்து சொற்கள் எழுதுக.



எ -கா

முகில்

1. _____

2. _____

3. _____

4. _____

5. _____

புள்ளிகள் 10